



دبستان دخترانه غیر دولتی ترنج دانش

نام درس: ریاضی

کلاس: سوم

نام و نام خانوادگی:

تاریخ:

نام آموزگار:

۱- عددهای زیر را به حروف و رقم بنویسید.

۳۰۶ -----

پانصد و شصت -----

۸۴۸ -----

دویست و نود و شش -----

۲- الگوی عددی زیر را ادامه دهید.

۱ - ۲ - ۴ - ۷ - - - -

۳- عددهای قبل و بعد عدد های زیر را بنویسید.



۴- حاصل جمع ها را پیدا کنید.

$$۳۰ + ۲۰ + ۳ + ۵ + ۵ + ۵ + ۱۰ = \boxed{}$$

$$۲۰ + ۳۵ + ۵ + ۷ = \boxed{}$$

۵- تفاوت و شباهت دو شکل مقابل را بنویسید



شباهت:

تفاوت:

۶- حاصل جمع و تفریق های زیر را به دست آورید.

۷۸	۳۴	۵۱	۹۶	۶۴	۹۶	۱۰۵
+۱۹	+۲۵	+۳۰	-۲۳	-۳۸	+ ۸	- ۷
<hr/>	<hr/>	<hr/>	<hr/>	<hr/>	<hr/>	<hr/>

۷- مجید ۹ سکه ۱۰ ریالی و ۵ سکه ۱ ریالی داشت. ۴ سکه ۱۰ ریالی به خواهرش داد چند ریال برایش باقی ماند؟

$$۸۰۰ - ۵۰۰ = \boxed{}$$

۸- به کمک محور تفریق زیر را انجام دهید.



دبستان دخترانه غیر دولتی ترنج دانش



نام درس: _____

کلاس: _____

نام و نام خانوادگی: _____

تاریخ: _____

نام آموزگار: _____

۹- ابتدا عددها را با حذف یکان و دهگان به صورت تقریبی بنویسید سپس عددهای تقریبی را جمع یا تفریق کنید.


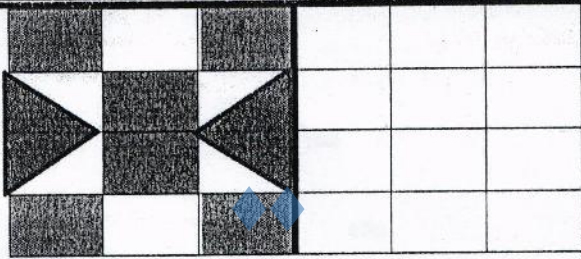
$$\begin{array}{r} 238 \\ + 321 \\ \hline \end{array}$$

$$\begin{array}{r} 425 \\ - 123 \\ \hline \end{array}$$

۱۰- عددهای زیر را با توجه به عبارت بنویسید.

الف) ۹ دسته صدتایی و ۶ دسته ده تایی و ۳ یکی می شود:

ب) ۴ دسته صدتایی و ۵ دسته ده تایی و ۷ یکی می شود:



۱۱- ساعت چند است؟

یک ربع بعد از این ساعت چه ساعتی است؟

۱۲- زهرا ۹۸ امتیاز داشت به یک سوال پاسخ درست داد و ۷ امتیاز گرفت حالا او چند امتیاز دارد؟

۱۳- با سه کارت ۳، ۶، ۹ تمام عددهای سه رقمی را که می توان ساخت، بنویسید.



۱۴- باز شده ی عددهای زیر را بنویس.

$$123 = 100 + 20 + 3$$



$$768 =$$

$$534 =$$

$$901 =$$

$$980 =$$

۱۵- مقدار پول هر قسمت را بنویس.



دبستان دخترانه غیر دولتی ترنج دانش



نام و نام خانوادگی:

کلاس: دوم

نام درس: ریاضی

نام آموزگار:

تاریخ:

۱- عدد‌های زیر را به حروف و رقم بنویسید.

۳۰۶ ----- سیصد و شش و شصت
 ۸۴۸ ----- هشتصد و چهل و هشت

۵۶۰ ----- پانصد و شصت
 ۲۹۶ ----- دویست و نود و شش

۲- الگوی عددی زیر را ادامه دهید.

۱ - ۲ - ۴ - ۷ - - - - - - - -

۳- عدد‌های قبل و بعد عدد‌های زیر را بنویسید.

۴۵۲	۴۵۳	۴۵۴	۴۵۵	۴۵۶	۴۵۷	۴۵۸	۴۵۹	۴۶۰	۴۶۱
-----	-----	-----	-----	-----	-----	-----	-----	-----	-----

۴- حاصل جمع‌ها را پیدا کنید.

۳۰ + ۲۰ + ۳ + ۵ + ۵ + ۵ + ۱۰ = ۷۸
 ۲۰ + ۳۵ + ۵ + ۷ = ۶۷

۵- تفاوت و شباهت دو شکل مقابل را بنویسید



شباهت: هر دو مربع و ۴ گوشه دارند
 تفاوت: در جمع ضلع‌ها با هم ۳ و ۴ و ۵ و ۷ در مستطیل ضلع‌ها ۴ و ۵ و ۷ و ۸ با هم ۳ و ۴

۶- حاصل جمع و تفریق‌های زیر را به دست آورید.


$\begin{array}{r} 78 \\ + 19 \\ \hline 97 \end{array}$	$\begin{array}{r} 34 \\ + 25 \\ \hline 59 \end{array}$	$\begin{array}{r} 51 \\ + 30 \\ \hline 81 \end{array}$	$\begin{array}{r} 96 \\ - 23 \\ \hline 73 \end{array}$	$\begin{array}{r} 64 \\ - 38 \\ \hline 26 \end{array}$	$\begin{array}{r} 96 \\ + 8 \\ \hline 104 \end{array}$	$\begin{array}{r} 105 \\ - 7 \\ \hline 98 \end{array}$
--	--	--	--	--	--	--

۷- مجید ۹ سکه ۱۰ ریالی و ۵ سکه ۱ ریالی داشت. ۴ سکه ۱۰ ریالی به خواهرش داد چند ریال برایش باقی ماند؟

$$\begin{array}{r} 90 \\ - 40 \\ \hline 50 \end{array}$$

۸- به کمک محور تفریق زیر را انجام دهید.

$800 - 500 =$ ۳۰۰



دبستان دخترانه غیر دولتی ترنج دانش



نام و نام خانوادگی:

کلاس:

نام درس:

نام آموزگار:

تاریخ:

۹- ابتدا عددها را با حذف یکان و دهگان به صورت تقریبی بنویسید سپس عددهای تقریبی را جمع یا تفریق کنید.



$$\begin{array}{r} 238 \\ + 321 \\ \hline \end{array} \rightarrow \begin{array}{r} 200 \\ + 300 \\ \hline 500 \end{array}$$

$$\begin{array}{r} 425 \\ - 123 \\ \hline \end{array} \rightarrow \begin{array}{r} 300 \\ - 100 \\ \hline 200 \end{array}$$

۱۰- عددهای زیر را با توجه به عبارت بنویسید.

الف) ۹ دسته صدتایی و ۶ دسته ده تایی و ۳ یکی می شود: 943

ب) ۴ دسته صدتایی و ۵ دسته ده تایی و ۷ یکی می شود: 457



۱۱- ساعت چند است؟


$6:15$

یک ربع بعد از این ساعت چه ساعتی است؟

$6:30$

۱۲- زهرا ۹۸ امتیاز داشت به یک سوپاسخ درست داد و ۷ امتیاز گرفت حالا او چند امتیاز دارد؟

$$98 + 7 = 105$$



۱۳- با سه کارت ۳، ۶، ۹ تمام عددهای سه رقمی را که می توان ساخت، بنویسید.

$$943 - 934 - 493 - 439 - 399$$

$$394$$

۱۴- باز شده ی عددهای زیر را بنویس.

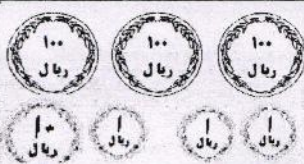
$$123 = 100 + 20 + 3$$

$$768 = 700 + 60 + 8$$

$$901 = 900 + 1$$

$$534 = 500 + 30 + 4$$

$$980 = 900 + 80$$



۱۵- مقدار پول هر قسمت را بنویس.

$$1000$$

$$327$$

$$545$$